


KLAR
PARAT
LÆS



LIVA ER VILD MED MATEMATIK



www.malenelarsen.nu

Liva er 8 år. Hun går i 2. klasse.

I dag er det en særlig dag på Livas skole.

Det er matematikkens dag og alle klasser på skolen skal arbejde med matematik hele dagen. Det er en god dag. Liva elsker matematik. Det er hendes yndlingsfag

Oversæt ordene

særlig dag _____ alle klasser _____
hele dagen _____ yndlingsfag _____



Liva

Fag i skolen



Hvilke andre fag har du i skolen?

Spørgsmål til teksten

Hvor gammel er Liva?
Hvilken klassen går Liva i?
Hvad er Livas yndlingsfag?



Spørgsmål til dig

Hvor gammel er du?
Hvilken klasse går du i?
Hvad er dit yndlingsfag?



Livas klasse skal arbejde med figurer.

Ali har taget en masse figurer med i forskellige farver. "Nu skal vi måle og sortere", siger Ali og smiler. Ali er Livas matematiklærer. Liva synes Ali er en god lærer, fordi han er god til at lave sjove matematikopgaver.



Ali




cirkel



trekant




firkant



sekskant

Farver




Farv cirklerne **røde**

Farv trekanterne **grønne**



Farv firkanterne **gule**

Farv sekskanterne **blå**




2.A skal sortere figurerne. Alle trekantederne skal i en bunke og firkantederne i en anden bunke. Der er flest trekanter og færrest firkanter. Bagefter skal de måle firkantederne. De skal bruge en lineal. De skal måle firkantens højde og bredde.

Der er 6 trekanter
Der er flest trekanter

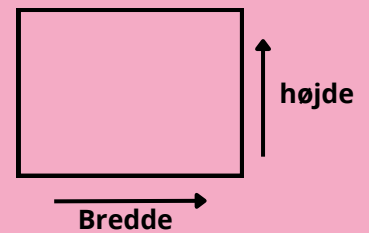


Der er 4 firkanter
Der er færrest firkanter

En lineal



mm = millimeter
cm = centimeter



Mål figurerne



- Hvor høj er trekanten?
- Hvor høj er firkanten?
- Hvor høj er sekskanten?
- Hvilken figur er højest?

